



초 | 등 | 부 | 터 EBS

민중의와

≡ 예습, 복습, 숙제까지 해결되는 교과서 완전 학습서 ≡



5-1 사회

인터넷·모바일·TV
무료 강의 제공





‘우리나라, 우리가 살고 있는 땅’ 하면 무엇이 떠오르나요? 여러분이 살고 있는 곳의 주변에서 볼 수 있는 환경은 어떤 것들이 있나요?

이번 단원에서는 우리가 살아가는 터전인 국토의 위치와 영역에 대하여 알아보고, 우리나라의 지형과 기후 등의 자연환경에 대해 학습합니다. 또한, 우리나라의 다양한 인문 환경 중 인구 구성 및 인구 분포에 대해 알아보고, 교통과 산업이 발달한 과정을 살펴봅시다.



1

국토와 우리 생활

단원 학습 목표

1. 우리 국토가 위치한 곳의 특징을 알고, 우리나라의 영역에 대하여 알 수 있습니다.
2. 우리나라의 지형, 기후 등 자연환경과 자연재해에 대하여 알 수 있습니다.
3. 우리나라의 인구 구성과 인구 분포의 특징을 파악하고 도시, 교통, 산업 발달의 과정과 특징을 알 수 있습니다.

단원 진도 체크

회차	학습 내용		진도 체크
1차	① 우리 국토의 위치와 영역	교과서 내용 학습 + 핵심 개념 문제	✓
2차		중단원 실전 문제 + 서술형·논술형 평가 돌보기	✓
3차	② 우리 국토의 자연환경	교과서 내용 학습 + 핵심 개념 문제	✓
4차		중단원 실전 문제 + 서술형·논술형 평가 돌보기	✓
5차	③ 우리 국토의 인문 환경	교과서 내용 학습 + 핵심 개념 문제	✓
6차		중단원 실전 문제 + 서술형·논술형 평가 돌보기	✓
7차	대단원 정리 학습, 교과서 사고력 문제 엿보기, 대단원 마무리, 수행 평가 미리 보기		✓

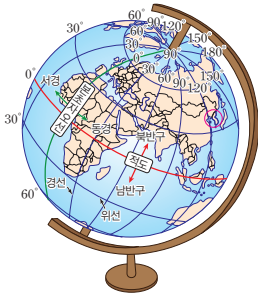
해당 부분을 공부한 후 ✓ 표를 하세요.



(1) 우리 국토의 위치와 영역

사회 6~25쪽

■ 지구본에서 우리나라의 위치는?



지구는 적도를 기준으로 북반구와 남반구로 나뉩니다. 위도는 적도를 기준으로 북쪽을 북위, 남쪽을 남위라고 하며, 적도에 가까운 지역은 저위도, 가운데 지역은 중위도, 극지방에 가까운 지역은 고위도라고 합니다.

■ 아시안 하이웨이는?

아시안 하이웨이는 유럽의 여러 나라를 연결하는 고속 국도를 뜻합니다. 아시안 하이웨이가 완공되면 우리나라에서 인도를 거쳐 터키까지, 또는 러시아를 지나 유럽까지 자동차로 갈 수 있게 됩니다.

■ 영해는?

바다는 육지처럼 선을 그어 경계선을 표시할 수 없으므로 육지의 끝 또는 영해를 설정하는 기준선을 이용하여 일정 거리(12해리)까지를 영해로 정합니다.

■ 낱말 사전

반도 대륙에서 바다 쪽으로 길게 내민 땅으로, 삼면이 바다로 둘러싸이고 한 면은 육지에 이어진 땅을 뜻함.

중위도 저위도와 고위도의 중간으로 대략 위도 20°~50°를 말함.

주권 다른 나라의 간섭 없이 나라의 중요한 일을 스스로 결정하는 권리.

1 우리 국토의 위치

(1) 지도로 알아보는 우리 국토의 위치

- ① 우리 국토는 아시아 대륙의 동쪽에 위치한 **반도**입니다.
- ② 우리 국토는 북위 33°~43°, 동경 124°~132° 사이에 위치해 있습니다.
- ③ 우리 국토는 지구의 북반구, **중위도**에 위치해 있습니다.
- ④ 우리나라 주변에는 러시아, 몽골, 일본, 중국 등의 나라가 있습니다.



▲ 우리나라의 위치

(2) 우리나라 위치의 특징

- ① 아시아 대륙과 연결되어 있어 도로나 철도를 이용해 대륙으로 나아가기 유리합니다.
 - ② 삼면이 바다와 맞닿아 있어 해양으로 나아가기에 좋은 위치입니다.
 - ③ 러시아, 일본, 중국 등 가까운 나라는 여객선을 타고 갈 수 있습니다.
 - ④ 바닷길을 이용해 큰 화물을 세계 여러 나라로 쉽게 운반할 수 있습니다.
- ➔ 우리 국토는 대륙과 바다로 쉽게 나아갈 수 있는 장점을 이용해 세계 여러 나라와 교류하고 있습니다.

2 우리나라의 영역

(1) 영역의 의미: 한 나라의 영역은 그 나라의 **주권**이 미치는 범위를 말하며, 영토(땅), 영해(바다), 영공(하늘)으로 이루어집니다.

(2) 우리나라의 영역: 우리나라의 영역에는 우리 주권이 미치기 때문에 다른 나라가 함부로 들어올 수 없습니다.

- 우리나라의 영토: 한반도와 한반도에 속한 여러 섬
- 우리나라 영해: 우리나라 바다의 영역으로 영해를 설정하는 기준선(동해안은 썰물일 때의 해안선을 기준으로, 서해안과 남해안은 가장 바깥에 위치한 섬들을 직선으로 그은 선을 기준으로 함)으로부터 12해리까지임.
- 우리나라의 영공: 우리나라의 영토와 영해 위에 있는 하늘의 범위



▲ 우리나라의 영역



(3) 우리나라 영토의 끝

북쪽 끝	함경북도 온성군 유원진	서쪽 끝	평안북도 용천군 마안도
동쪽 끝	경상북도 울릉군 독도	남쪽 끝	제주특별자치도 서귀포시 마라도

3 우리 국토를 사랑하는 마음 표현하기

(1) 국토는 우리들의 삶의 터전이고, 국토가 없으면 국가가 존재할 수 없기 때문에 중요합니다.

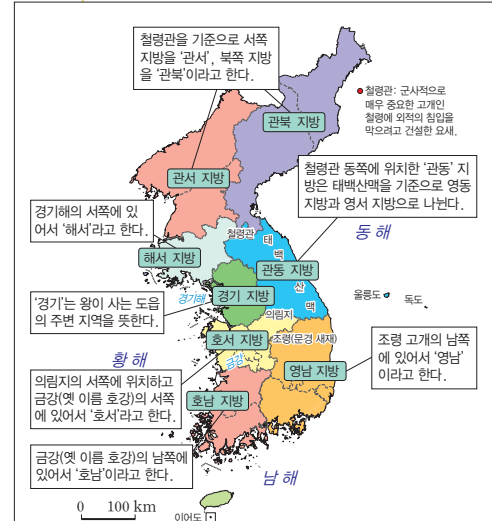
비무장 지대	6·25 전쟁 이후 정해진 비무장 지대는 한반도 평화 유지에 중요한 장소임. 오랫동안 사람들의 발길이 닿지 않아 생태계가 보존되어 그 가치를 인정받고 있음.
독도	국토의 동쪽 끝에 위치한 우리나라 영토임. 우리나라 사람들의 삶의 터전이며, 국토방위에 중요한 장소임.

- (2) 국토 사랑 표현 방법: 국토 사랑 신문 만들기, 글짓기, 캠페인 활동, 국토 환경 보호하기, 국토 사랑 지도 만들기 등
- (3) 국토 사랑 실천 방법: 우리 국토에 관심 가지기, 환경 오염시키지 않기, 자부심 갖기 등

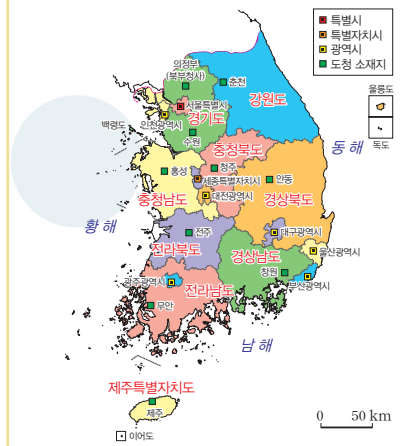
4 우리 국토의 구분

지금 우리가 사용하는 행정 구역은 조선 시대 초기에 정한 행정 구역을 기본으로 하고 있습니다.

자연환경에 따른 우리 국토의 구분	우리나라 행정 구역의 위치
<ul style="list-style-type: none"> • 남북으로 긴 우리나라는 큰 산맥과 하천을 중심으로 북부, 중부, 남부 지방으로 구분함. • 북부 지방은 북한 지역임. • 중부 지방은 휴전선 남쪽으로 소백산맥과 금강 하류까지임. • 남부 지방은 중부 지방의 남쪽 지역임. 	<ul style="list-style-type: none"> • 북한 지역을 제외하면 특별시 1곳, 특별자치시 1곳, 광역시 6곳, 도 8곳, 특별자치도 1곳으로 이루어져 있음. • 특별시, 특별자치시, 광역시에는 시청이 있고, 도와 특별자치도에는 도청이 있음. • 시청과 도청은 대부분 시·도의 중심에 위치하고 있음.



▲ 우리나라의 전통적인 지역 구분
우리나라는 오래전부터 산이나 호수, 강, 바다 등의 자연환경으로 지역을 구분했습니다.



▲ 우리나라의 도청 소재지

■ 각 도의 이름은?
대부분 그 지역에서 중요한 도시의 이름을 따서 정했습니다. 함경도(함흥+경성), 평안도(평양+안주), 황해도(황주+해주), 전라도(전주+나주), 강원도(강릉+원주), 충청도(충주+청주), 경상도(경주+상주)

▶ **날말 사진**

산맥 산지의 여러 산들이 이어진 지형.

행정 구역 나라를 효율적으로 관리하려고 나눈 지역.



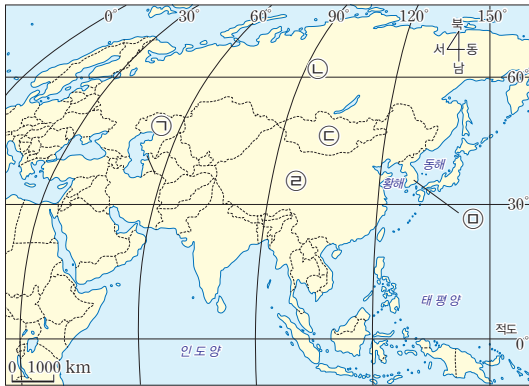
핵심 개념 문제



개념 1 우리 국토의 위치

- (1) 우리 국토는 아시아 대륙의 동쪽에 위치하고 있음.
- (2) 우리 국토는 북반구, 중위도에 위치하고 북위 33°~43°, 동경 124°~132° 사이에 위치해 있음.
- (3) 주변에 러시아, 몽골, 일본, 중국 등의 국가가 있음.
- (4) 육지와 바다 모두 접해 있어(반도) 대륙과 바다로 나가기 쉬움. ➔ 세계 여러 나라와 교류하고 있음.

01 다음 지도에서 우리나라의 위치를 찾아 기호를 쓰시오.



()

02 우리나라의 위치에 대한 설명으로 알맞은 것을 골라 ○표 하시오.

(1)

우리 국토는 고위도에 위치한다.

()

(2)

우리 국토는 아시아 대륙에 위치한다.

()

(3)

우리 국토는 일본과 대륙으로 이어져 있다.

()

개념 2 우리나라의 영역

(1) 나라의 영역: 그 나라의 주권이 미치는 범위로 영토, 영해, 영공으로 이루어짐.

우리나라의 영토	한반도와 한반도에 속한 여러 섬
우리나라의 영해	우리나라 바다의 영역으로 영해를 설정하는 기준선으로부터 12해리까지임.
우리나라의 영공	우리나라의 영토와 영해 위에 있는 하늘의 범위

(2) 우리나라 영토의 끝

북쪽 끝	함경북도 온성군 유원진
동쪽 끝	경상북도 울릉군 독도
서쪽 끝	평안북도 용천군 마안도
남쪽 끝	제주특별자치도 서귀포시 마라도

03 다음과 관련 있는 것을 선으로 이으시오.

(1) 한 나라의 주권이 미치는 바다 . ○ ㉠ 영공

(2) 한 나라의 주권이 미치는 하늘 . ○ ㉡ 영토

(3) 한 나라의 주권이 미치는 땅 . ○ ㉢ 영해

04 우리나라의 영토에 대한 설명으로 알맞은 것을 모두 고른 것은 어느 것입니까? ()

- ㉠ 우리나라 영토의 동쪽 끝은 독도이다.
- ㉡ 우리나라 영토는 우리가 사는 삶의 터전이다.
- ㉢ 한반도 주변에 있는 작은 섬은 우리나라 영토에 포함되지 않는다.

- ① ㉠
- ② ㉡
- ③ ㉢
- ④ ㉠, ㉡
- ⑤ ㉡, ㉢



중단원 실전 문제



01 지구본에서 우리 국토를 찾는 방법을 바르게 말한 친구는 누구입니까? ()

- ① 혜주: 우리 국토는 섬나라이므로 바다를 주로 찾아보면 돼.
- ② 서연: 우리나라는 북반구에 있으니 적도 윗부분을 찾아보자.
- ③ 준서: 우리나라는 고위도이니까 지구본의 가장 윗부분을 보면 돼.
- ④ 진혁: 우리나라는 아시아 대륙의 한 가운데에 있으니 아시아 중앙 부분을 찾아보자.
- ⑤ 세희: 지구본으로는 우리나라의 위치를 확인하기 어려우니 인터넷으로 찾아보자.

02 우리 국토에 대한 설명으로 알맞은 것을 보기에서 골라 기호를 쓰시오.

보기

- ㉠ 우리 국토는 적도에 매우 가깝게 위치하고 있다.
- ㉡ 우리 국토는 중국과 일본 사이에 위치하고 있다.
- ㉢ 우리나라 주변에 있는 나라로는 미국, 터키, 인도 등이 있다.

()

03 () 안에 들어갈 알맞은 말을 쓰시오.

우리나라 국토는 () 대륙의 동쪽에 위치하고 있다.

()

04 다음 지도를 통해 알 수 있는 사실로 알맞은 것은 무엇입니까? ()



- ① 우리나라 국토는 매우 넓다.
- ② 우리 국토의 대부분은 산지이다.
- ③ 우리 국토는 저위도에 위치한다.
- ④ 우리나라는 삼면이 바다로 둘러싸여 있다.
- ⑤ 우리나라는 비행기로만 다른 나라로 이동할 수 있다.

05 우리 국토와 대륙으로 바로 연결된 나라는 어디입니까? ()

- ① 중국 ② 몽골 ③ 일본
- ④ 영국 ⑤ 인도네시아

06 다음 지도의 파란색 선은 우리나라의 영역 중 무엇을 나타낸 것인지 쓰시오.



()



07 ^{중요} 한 나라의 영역에 대한 설명으로 알맞은 것을 두 가지 고르시오. (,)

- ① 대륙에 연결된 부분만 영역으로 인정된다.
- ② 영공은 나라끼리 서로 영역을 구분하지 않는다.
- ③ 우리나라의 영해는 한반도와 한반도에 속한 여러 섬이다.
- ④ 한 나라의 영역에는 다른 나라가 함부로 들어갈 수 없다.
- ⑤ 한 나라의 영역은 그 나라의 주권이 미치는 범위를 말한다.

08 우리나라의 영토에 해당하는 것을 두 가지 고르시오. (,)

- ① 황해 ② 남해 ③ 동해
- ④ 한반도 ⑤ 울릉도

09 영공이 중요한 까닭을 모두 고른 것은 어느 것입니까? ()

- ㉠ 한반도와 섬을 연결해 주기 때문이다.
- ㉡ 자유롭게 수산업을 할 수 있기 때문이다.
- ㉢ 국토방위와 항공 교통에 중요하기 때문이다.

- ① ㉠ ② ㉡ ③ ㉢
- ④ ㉠, ㉡ ⑤ ㉡, ㉢

10 우리나라 영토의 북쪽 끝과 남쪽 끝을 바르게 짝지은 것은 어느 것입니까? ()

- | | |
|-------------|-------------|
| <u>북쪽 끝</u> | <u>남쪽 끝</u> |
| ① 유원진 | 마안도 |
| ② 독도 | 마라도 |
| ③ 마안도 | 제주도 |
| ④ 독도 | 유원진 |
| ⑤ 유원진 | 마라도 |

[11~12] 다음은 민준이네 모둠에서 국토를 사랑하는 마음을 나타낸 작품입니다. 물음에 답하십시오.

국토 사랑 신문

우리 국토의 동쪽 끝

화산 활동으로 생겨난 섬으로 우리나라는 섬 전체를 천연기념물로 보호하고 있다. 또 수산 자원과 지하자원이 풍부하고 국토방위에 중요한 장소이다.

(가)

11 국토를 사랑하는 마음을 표현하기 위해 민준이네 모둠이 선택한 방법은 무엇입니까? ()

- ① 역할극 하기
- ② 신문 기사 쓰기
- ③ 노래 가사 만들기
- ④ 국토 사랑 캠페인 활동
- ⑤ 국토 사랑 지도 만들기

12 위 (가)에 들어갈 사진으로 알맞은 것을 골라 기호를 쓰시오.

㉠	㉡
▲ 거제도	▲ 우도
㉢	㉣
▲ 오륙도	▲ 독도

()



13 다음 지도에 표시된 비무장 지대에 대한 설명으로 알맞지 않은 것을 두 가지 고르시오. (,)



- ① 우리나라 영토에서 제외되는 곳이다.
- ② 오랫동안 사람의 발길이 닿지 않은 곳이다.
- ③ 생태계가 잘 보존되어 그 가치를 인정받고 있는 지역이다.
- ④ 사람은 없이 남과 북의 무기만 설치하기로 약속한 곳이다.
- ⑤ 휴전선을 중심으로 남과 북이 같은 거리만큼을 해당 구역으로 정하였다.

16 다음을 통해 알 수 있는 사실은 무엇입니까? ()

- 호남 지방은 ‘금강’의 남쪽에 있어서 붙여진 이름이다.
- 관서, 관북, 관동 지방은 ‘철령관’을 기준으로 나뉘는데, 철령관은 철령이라는 고개에 있는 요새이다.

- ① 지역에 따라 날씨가 차이 난다.
- ② 우리나라는 남북으로 긴 형태이다.
- ③ 바다가 지역을 나누는 기준이 된다.
- ④ 우리나라는 크게 8구역으로 분류한다.
- ⑤ 자연환경으로 국토를 구분할 수 있다.

중요 14 다음 우리 국토의 구분과 관련 있는 지역을 선으로 이으시오.

(1) 북부 지방	• •	㉠ 북한 지역
(2) 중부 지방	• •	㉡ 중부 지방의 남쪽 지역
(3) 남부 지방	• •	㉢ 휴전선 남쪽으로 소백산맥과 금강 하류까지의 지역

17 다음 일기 예보를 보고, 각 지역의 날씨를 바르게 설명한 것을 골라 기호를 쓰시오.



- ㉠ 영남 지방은 날씨가 흐리다.
- ㉡ 중부 지방은 비가 오다가 갠다.
- ㉢ 남부 지방은 전체적으로 비가 내린다.

15 우리나라의 도시와 그 도시가 속한 전통적 지역 구분을 바르게 짝지은 것은 어느 것입니까? ()

- ① 부산-경기 지방
- ② 대전-해서 지방
- ③ 전주-관동 지방
- ④ 대구-영남 지방
- ⑤ 평양-호남 지방

18 우리 국토에서 영남 지방을 구분하는 기준은 무엇입니까? ()

- ① 금강
- ② 한강
- ③ 의림지
- ④ 태백산맥
- ⑤ 조령(문경 새재)



19 () 안에 들어갈 알맞은 말을 쓰시오.

철령관 동쪽에 위치한 관동 지방은 ()을/를 기준으로 영동 지방과 영서 지방으로 나뉜다.

()

20 우리나라의 전통적인 지역 구분 중 호수나 저수지를 기준으로 하여 이름 붙여진 것은 어느 것입니까?

()

- ① 관서 지방 ② 해서 지방
- ③ 영동 지방 ④ 호서 지방
- ⑤ 영서 지방



21 우리나라 행정 구역 중 광역시에 해당하지 않는 도시는 어느 것입니까? ()

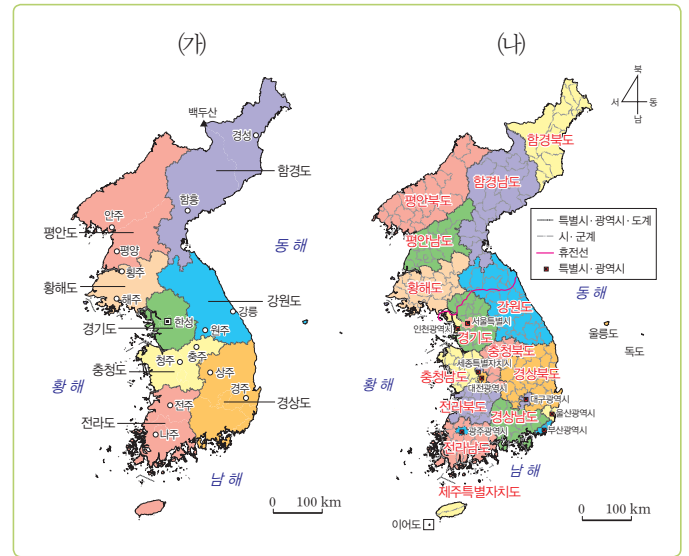
- ① 전주 ② 부산
- ③ 대구 ④ 울산
- ⑤ 대전



22 우리나라 행정 구역의 위치에 대한 설명으로 알맞은 것은 어느 것입니까? ()

- ① 경상남도는 서해안과 맞닿아 있다.
- ② 강원도는 한반도의 서쪽에 해당한다.
- ③ 제주특별자치도는 전라남도에 포함된다.
- ④ 서울특별시는 한반도의 위쪽 부분에 위치한다.
- ⑤ 세종특별자치시는 충청남도과 충청북도의 사이에 위치한다.

[23~24] (가)는 조선 시대의 행정 구역, (나)는 오늘날 우리나라의 행정 구역을 나타낸 지도입니다. 물음에 답하십시오.



23 (가)와 (나)를 통해 알 수 있는 내용이 맞으면 ○표, 틀리면 ×표 하시오.

(1) 조선 시대에는 도시의 이름이 없었다. ()

(2) 조선 시대에는 전국을 9개의 '도'로 나누었다. ()

(3) 오늘날 행정 구역은 조선 시대에 정한 행정 구역을 기본으로 하고 있다. ()

24 조선 시대의 전라도에 해당하는 지역은 오늘날 행정 구역상 어디인지 이름을 쓰시오.

(,)



서술형·논술형 평가 돋보기

연습 문제

문제 해결 전략

1 단계	제시된 지도의 내용 파악하기
↓	
2 단계	지도에 표시된 부분의 의미 알기
↓	
3 단계	한 나라의 영역이 갖는 중요성 생각하기

핵심 키워드

- 한 나라의 영역
 - 한 나라의 주권이 미치는 범위임.
 - 영토, 영해, 영공으로 이루어짐.
- 우리나라의 영역
 - 우리나라의 영역은 우리들이 사는 삶의 터전임.
 - 우리나라 영역 안에서 우리나라 사람들은 자유롭게 살 수 있음.

1 다음 지도를 보고, 물음에 답하십시오.



1 위와 같이 한 나라의 주권이 미치는 범위를 무엇이라고 하는지 쓰시오.

()

2 우리나라의 영역 중 위 지도에 나타나 있지 않은 것은 무엇인지 쓰고, 그 범위는 어디까지인지 () 안에 알맞은 말을 쓰시오.

(1) 위 지도에 나타나 있지 않은 우리나라의 영역: ()

(2) 범위: 우리나라의 영토와 () 위에 있는 ()의 범위입니다.

3 한 나라의 영역과 그 범위가 중요한 이유는 무엇인지 () 안에 알맞은 말을 쓰시오.

(, ,) (으)로 이루어지는 한 나라의 영역은 그 나라의 ()이/가 미치는 곳이기 때문에 다른 나라가 함부로 들어올 수 없으며 국민들은 영역 안에서 자유롭게 살 수 있습니다. 한 나라의 영역은 국민들이 살아가는 삶의 터전입니다.

빈칸을 채우며
서술형·논술형 문제의
답안을 작성하는 연습을
해 보세요!

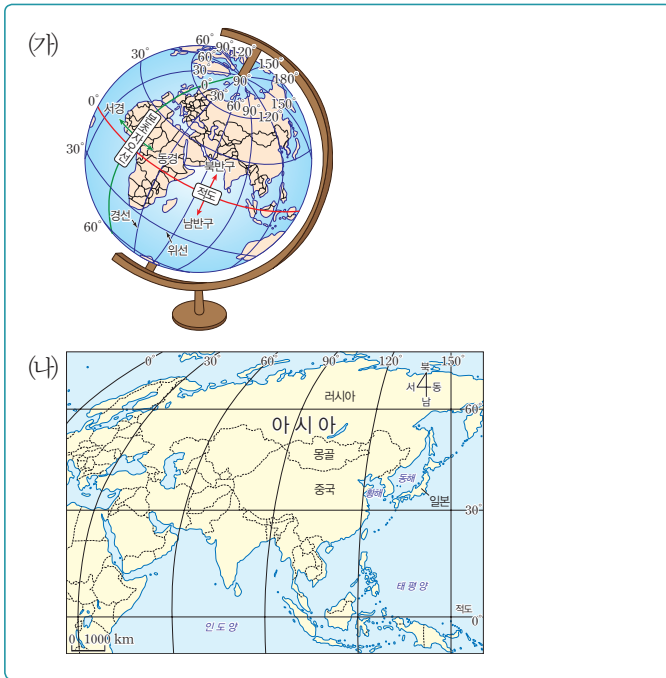




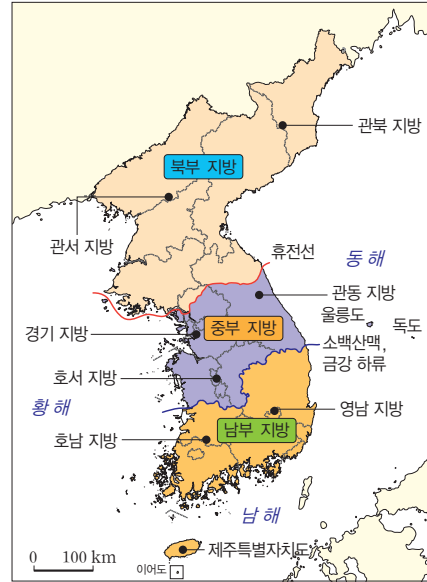
학교에서 출제되는 서술형·논술형 평가를 미리 준비하세요.

실전 문제

[1~3] 다음 자료를 보고, 물음에 답하시오.



[4~5] 다음은 우리 국토를 구분한 지도입니다. 물음에 답하시오.



1 (가)와 (나)에서 우리나라를 찾아 동그라미 하시오.

2 위 자료를 보고 우리나라의 위치에 대해 정리하였습니다. () 안에 알맞은 말을 써넣으시오.

- (1) 우리나라는 적도의 윗부분인 ()에 있고, () 대륙의 ()쪽에 위치하고 있습니다.
- (2) 우리나라는 북위 30°의 바로 위쪽에 있으므로 () 지역에 위치합니다.

3 위 자료를 살펴보면 우리나라는 대륙, 바다와 접해 있습니다. 이것은 어떤 장점을 가지는지 쓰시오.

4 위와 같이 국토를 구분한 기준은 무엇인지 쓰시오.

5 우리 국토를 북부 지방, 중부 지방, 남부 지방으로 구분하는 구체적인 기준을 쓰시오.
